



MEDIDA DEL TIEMPO.




DIBUJA EN LOS RELOJES LAS SIGUIENTES HORAS



Ocho y media



seis en punto



doce y cuarto

COMPLETA LAS FRASES:

Los días de la semana son: _____

Los meses del año son: _____

Las estaciones son: _____