




MEDIDAS DE TIEMPO.

DIBUJA LAS AGUJAS A UN RELOJ QUE MARCA LAS SIGUIENTES HORAS:



23 horas y 25 minutos. 15 horas y 15 minutos

7 horas

Carolina trabaja de 8 a 16 horas diarias ¿Cuántas horas trabaja por día? Teniendo en cuenta que trabaja de Lunes a Sábados y descansa los días miércoles, me podrías decir cuántas horas trabaja en la semana?

¿Me podrías ayudar a completar estas oraciones?

Un día tiene _____ horas, por lo tanto la mitad del día tiene _____ horas

Media hora tiene _____ minutos y un cuarto de hora tiene _____ minutos

Yo nací el día _____ del mes de _____ del año _____

Unimos con flechas.

mes

siete días

lustro

cien años

semana

cinco años

siglo

treinta días

trimestre

tres meses