


GEOMETRÍA.

El triángulo EQUILÁTERO tiene _____ lados iguales. El triángulo _____ tiene dos lados _____. El triángulo ESCALENO tiene sus tres lados _____.


Coloca el nombre a cada uno de estos CUADRILÁTEROS.



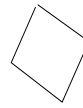
01)



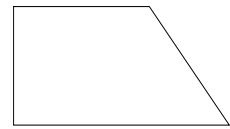
02)



03)



04)



05)

Dibuja el CENTRO, un RADIO y un DIÁMETRO.

